

## VEROVATNOĆA - ZADACI (II DEO)

### Klasična definicija verovatnoće

Verovatnoća događaja  $A$  jednaka je količniku broja povoljnih slučajeva za događaj  $A$  i broja svih mogućih slučajeva.

$$P(A) = \frac{m}{n}$$

$n$  je broj svih mogućih slučajeva

$m$  je broj povoljnih slučajeva

#### PRIMER 1.

**Odrediti verovatnoću da bačena kocka za igru na gornjoj strani pokaže paran broj.**

#### Rešenje:

A: “pao je paran broj”

Da još jednom ponovimo savet iz prvog dela: uvek kad možete, skicirajte problem i napišite sve mogućnosti!

1 2 3 4 5 6

Jasno je da je broj svih mogućnosti  $n = 6$

1 2 3 4 5 6

Povoljno je da padne: 2,4 ili 6 ( paran broj), pa je onda  $m = 3$

$$P(A) = \frac{m}{n} = \frac{3}{6} = \frac{1}{2}$$

#### PRIMER 2.

**Kolika je verovatnoća da će se na dvema bačenim kockicama pojaviti zbir 9 na gornjoj strani?**

#### Rešenje:

A: “pao je zbir 9”

Već smo videli u prethodnom fajlu da se broj svih mogućnosti izračunava:

$$n = \overline{V}_2^6 = 6^2 = 36$$

Da vidimo šta je nama povoljno:

1	1	2	1	3	1	4	1	5	1	6	1
1	2	2	2	3	2	4	2	5	2	6	2
1	3	2	3	3	3	4	3	5	3	6	3
1	4	2	4	3	4	4	4	5	4	6	4
1	5	2	5	3	5	4	5	5	5	6	5
1	6	2	6	3	6	4	6	5	6	6	6

Imamo četiri povoljne mogućnosti, pa je  $m = 4$

$$P(A) = \frac{m}{n} = \frac{4}{36} = \frac{1}{9}$$

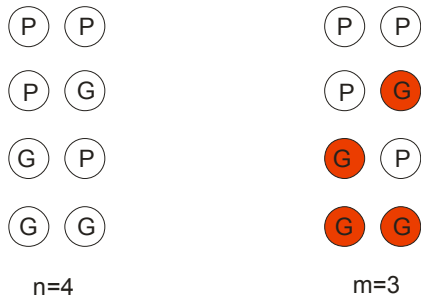
### PRIMER 3.

**Kolika je verovatnoća da pri bacanju dva novčića padne bar jedan grb?**

#### Rešenje:

Kad u zadatku kaže “bar jedan”, to znači da nam je povoljno da padne jedan ali i oba grba!

A: “pao je bar jedan grb”




Verovatnoća je  $P(A) = \frac{m}{n} = \frac{3}{4}$

Ovaj zadatak smo mogli da rešimo i na drugi način, koji se često koristi kad u formulaciji zadatka imamo reči “bar jedan”.

Posmatramo suprotan događaj događaju A: “pao je bar jedan grb”.

To će biti  $\overline{A}$ , koje znači da nije pao nijedan grb (odnosno, pala su dva pisma)



$n=4$



$m=1$

$$P(\bar{A}) = \frac{m}{n} = \frac{1}{4}$$

Dalje koristimo:

$$P(A) + P(\bar{A}) = 1$$

$$P(A) = 1 - P(\bar{A})$$

$$P(A) = 1 - \frac{1}{4}$$

$$P(A) = \frac{3}{4}$$


**PRIMER 4.**

**Odrediti verovatnoću da pri istovremenom bacanju tri novčića padne tačno jedno pismo.**

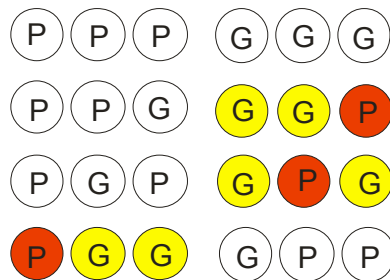
**Rešenje:**

A: “palo je tačno jedno pismo”

Ovde nam traže konkretno da bude samo jedno pismo na tri novčića, pa nam nije povoljno da budu dva pisma ili sva tri...



$n=8$



$m=3$

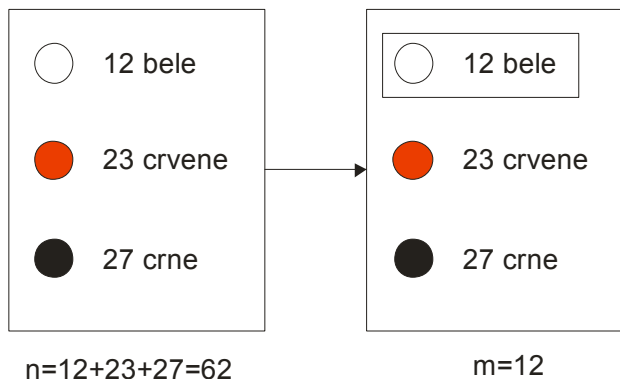
$$P(A) = \frac{m}{n} = \frac{3}{8}$$

**PRIMER 5.**

U posudi se nalazi 12 belih, 23 crvene i 27 crnih kuglica. Odrediti verovatnoću da izvučemo belu kuglicu, pod uslovom da su sve mogućnosti podjednako verovatne.

**Rešenje:**

A: "izvučena je bela kuglica"



Broj svih mogućnosti dobijamo kad saberemo sve kuglice, dakle  $n = 62$ .

Nama je povoljno da izvučemo belu kuglicu, a pošto ih ima 12, to je  $m = 12$

$$P(A) = \frac{m}{n} = \frac{12}{62} = \frac{6}{31}$$

**PRIMER 6.**

Nepismeno dete sastavlja reči od sledećih slova: a,a,a,e,i,k,m,m,t,t. Odrediti verovatnoću da će sastaviti reč "matematika".

**Rešenje:**

Ovaj zadatak ćemo rešiti na dva načina.

**I način**

Koristimo klasičnu definiciju verovatnoće:

A: "sastavljena je reč matematika"

Broj svih mogućnosti je ustvari broj svih permutacija od ovih 10 slova, ali sa ponavljanjem, jer se slovo a ponavlja 3 puta, slovo m - 2 puta i slovo t - 2 puta.

$$n = \frac{10!}{3! \cdot 2! \cdot 2!} = \frac{10 \cdot 9 \cdot 8 \cdot 7 \cdot 6 \cdot 5 \cdot 4 \cdot 3 \cdot 2 \cdot 1}{3 \cdot 2 \cdot 1 \cdot 2 \cdot 1 \cdot 2 \cdot 1} = 151200$$

Od svih mogućnosti, nama je povoljna samo jedna, da reč bude matematika, pa je  $m = 1$

$$P(A) = \frac{m}{n} = \frac{1}{151200}$$

## II način

Ovaj način je više logički, ići ćemo slovo po slovo:

Najpre od ovih deset slova biramo slovo m, verovatnoća tog događaja je  $\frac{2}{10}$ , jer imamo 10 slova a 2 su m.

a a a e l k ~~m~~ m t t

Dalje nam treba slovo a. Verovatnoća da ćemo uzeti a od preostalih 9 slova je  $\frac{3}{9}$ , jer imamo 3 slova a.

~~a~~ a a e l k ~~m~~ m t t

Znači, za sad imamo  $\frac{2}{10} \cdot \frac{3}{9}$ . Idemo dalje, biramo slovo t od preostalih 8 slova. Tu je verovatnoća  $\frac{2}{8}$ .

~~a~~ a a e l k ~~m~~ m ~~t~~ t

Imamo dakle za sada  $\frac{2}{10} \cdot \frac{3}{9} \cdot \frac{2}{8}$ .

Napravili smo mat, sledeće slovo koje nam treba je e, a njega uzimamo sa verovatnoćom  $\frac{1}{7}$ , jer su ostala 7 slova a imamo samo jedno e.

~~a~~ a a ~~e~~ l k ~~m~~ m ~~t~~ t

Sledeći ovaj postupak ( nadam se da smo ukapirali ), dobijamo:

$$P(A) = \frac{2}{10} \cdot \frac{3}{9} \cdot \frac{2}{8} \cdot \frac{1}{7} \cdot \frac{1}{6} \cdot \frac{2}{5} \cdot \frac{1}{4} \cdot \frac{1}{3} \cdot \frac{1}{2} \cdot 1 \quad \text{odnosno} \quad P(A) = \frac{1}{151200}$$

**PRIMER 7.**

U kutiji se nalaze 3 žute, 4 crvene i 5 plave kuglice. Izvlačimo 3 kuglice ali na različite načine:

- i) sve tri odjednom
- ii) jednu po jednu sa vraćanjem
- iii) jednu po jednu bez vraćanja

Odrediti verovatnoću da su izvučene:

- a) sve tri crvene kuglice
- b) 2 plave i jedna žuta
- c) sve tri kuglice različite boje.

**Rešenje:**

**Pazite**, zavisno od načina na koji izvlačimo kuglice, koristimo različite formule iz kombinatorike!

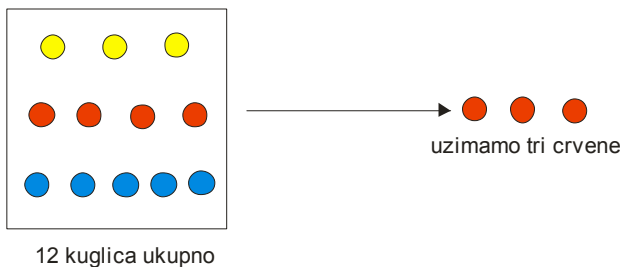
Ako uzimamo sve kuglice odjednom, koristimo kombinacije  $C_k^n$ .

Ako uzimamo kuglice jednu po jednu sa vraćanjem, koristimo  $\overline{V}_k^n$ .

Ako uzimamo kuglice jednu po jednu bez vraćanja, koristimo  $V_k^n$ .

**a) sve tri crvene kuglice**

A: "izvučene su tri crvene kuglice"



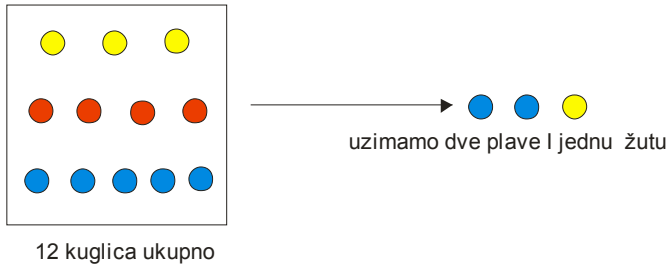
i)  $P(A) = \frac{C_3^4}{C_3^{12}} = \frac{4}{220} = \frac{1}{55}$  sve tri odjednom

ii)  $P(A) = \frac{\overline{V}_3^4}{\overline{V}_3^{12}} = \frac{4^3}{12^3} = \left(\frac{4}{12}\right)^3 = \left(\frac{1}{3}\right)^3 = \frac{1}{27}$  jedna po jedna sa vraćanjem

iii)  $P(A) = \frac{V_3^4}{V_3^{12}} = \frac{4 \cdot 3 \cdot 2}{12 \cdot 11 \cdot 10} = \frac{1}{55}$  jedna po jedna bez vraćanja

### b) 2 plave i jedna žuta

B: "izvučene su 2 plave i jedna žuta kuglica"

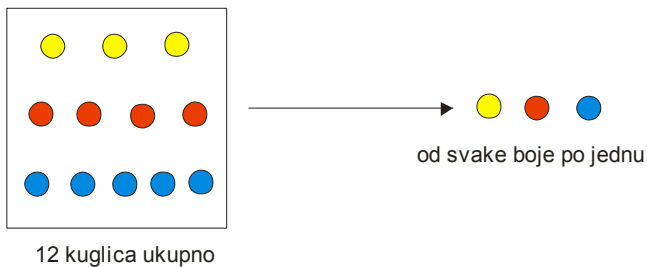


$$\text{i) } P(B) = \frac{C_2^5 \cdot C_1^3}{C_3^{12}} = \frac{10 \cdot 3}{220} = \frac{3}{22} \quad \text{sve tri odjednom}$$

$$\text{ii) } P(B) = \frac{\bar{V}_2^5 \cdot \bar{V}_1^3}{\bar{V}_3^{12}} = \frac{5^2 \cdot 3^1}{12^3} = \frac{25 \cdot 3}{12 \cdot 12 \cdot 12} = \frac{25}{576} \quad \text{jedna po jedna sa vraćanjem}$$

$$\text{iii) } P(B) = \frac{V_2^5 \cdot V_1^3}{V_3^{12}} = \frac{5 \cdot 4 \cdot 3}{12 \cdot 11 \cdot 10} = \frac{1}{22} \quad \text{jedna po jedna bez vraćanja}$$

### c) sve tri kuglice različite boje.



C: "izvučene su sve tri kuglice različite boje"

$$\text{i) } P(C) = \frac{C_1^3 \cdot C_1^4 \cdot C_1^5}{C_3^{12}} = \frac{3 \cdot 4 \cdot 5}{220} = \frac{3}{11} \quad \text{sve tri odjednom}$$

$$\text{ii) } P(C) = \frac{\bar{V}_1^3 \cdot \bar{V}_1^4 \cdot \bar{V}_1^5}{\bar{V}_3^{12}} = \frac{3 \cdot 4 \cdot 5}{12^3} = \frac{5}{144} \quad \text{jedna po jedna sa vraćanjem}$$

$$\text{iii) } P(C) = \frac{V_1^3 \cdot V_1^4 \cdot V_1^5}{V_3^{12}} = \frac{3 \cdot 4 \cdot 5}{12 \cdot 11 \cdot 10} = \frac{1}{22} \quad \text{jedna po jedna bez vraćanja}$$

**PRIMER 8.**

Kocka, čije su sve površi obojene, izdeljena je na hiljadu kocaka jednakih dimenzija. Tako dobijene kocke su izmešane. Odrediti verovatnoću da će nasumice izabrana kocka imati dve obojene površi.

**Rešenje:**

Događaj A: «izvučena je kockica sa dve obojene površine»

Pošto imamo hiljadu kockica, očigledno je  $n = 1000$

Kako kocka ima 12 ivica a svaka ivica sadrži po 10 kockica i znamo da ivice na uglovima imaju sve tri obojene strane, ispada da za svaku ivicu imamo po  $10 - 2 = 8$  kockica sa po dve obojene strane.

Onda je broj kockica sa dve obojene strane  $m = 12 \cdot 8 = 96$

$$P(A) = \frac{m}{n} = \frac{96}{1000} = 0,096$$

**PRIMER 9.**

Iz špila od 32 karte nasumice su izvučene tri karte odjednom.

- a) Naći verovatnoću da je među njima tačno jedan AS
- b) Naći verovatnoću da će među biti bar jedan AS

**Rešenje:**

- a) Naći verovatnoću da je među njima tačno jedan AS

Događaj A: « izvučen je tačno jedan AS »

Broj svih mogućnosti je da od 32 karte uzmemo 3:  $C_3^{32}$

Broj povoljnih mogućnosti je da bude 1 AS:  $C_1^4$  jer imamo 4 ASA, a preostale dve karte mogu biti bilo koje:  $C_2^{28}$

$$P(A) = \frac{C_1^4 \cdot C_2^{28}}{C_3^{32}} = \frac{4 \cdot \frac{28 \cdot 27}{2 \cdot 1}}{\frac{32 \cdot 31 \cdot 30}{3 \cdot 2 \cdot 1}} = \frac{4 \cdot 14 \cdot 27}{32 \cdot 31 \cdot 5} \approx 0,30$$

- b) Naći verovatnoću da će među biti bar jedan AS



Događaj B: « izvučen je bar jedan AS »

U ovakvim situacijama smo rekli da je pametno naći verovatnoću suprotnog događaja , pa to oduzeti od jedinice.

Suprotan događaj događaju B bi bio da nije izvučen nijedan AS.

$$P(\bar{B}) = \frac{C_3^{28}}{C_3^{32}} = \frac{\frac{28 \cdot 27 \cdot 26}{\cancel{3 \cdot 2 \cdot 1}}}{\frac{32 \cdot 31 \cdot 30}{\cancel{3 \cdot 2 \cdot 1}}} = \frac{28 \cdot 27 \cdot 26}{32 \cdot 31 \cdot 30} \approx 0,66$$

$$P(B) = 1 - P(\bar{B}) \approx 1 - 0,66 \approx 0,34$$